

השלם את המספר | השלם את המספר המקווקו וכתוב בריבוע

1	1	1	
2	2	2	
3	3	3	
4	4	4	
5	5	5	

כותבים | העתק את המספר לכל אורך השורה

6


7

8

9

10

כמה יש | ציין ליד כל תמונה את מספר הפריטים שיש בה



מחסן
מספרים

- 1
- 3
- 4
- 2
- 6
- 5
- 7
- 9
- 10

מתח קו | מתח קו בין הספרה למילה המתאימה

שֵׁשׁ

7

תִּשְׁעַ

3

אֶחָד

6

שֵׁלֹשׁ

9

שִׁבְעַ

1

רצף | השלים את רצף המספרים במילה המציינת את המספר החסר

1	2		4
	6		
8	9		

מחסן מספרים

שְׁתַּיִם | אַרְבַּע | שֵׁשׁ | עֶשֶׂר | אַחַת |
שְׁלוֹשׁ | חֲמֵשׁ | שִׁבְעַת | תֵּשַׁע | שְׁמוֹנֶה

מחירון מוצרים



₪20

שק תפוחים



₪30

5 קרטוני חלב




₪10

לחם



₪25

גבינה



₪20

מלפפונים



₪40

ביצים

מחיר | כתוב את מחירי המוצרים במילים


שקל.

חמשת קרטוני החלב עולים



שקל.

שק התפוחים עולה



שקלים.

1

הגבינה עולה



הקף בעיגול את המוצר היקר ביותר | מתח קו מתחת למוצר הזול ביותר

לחם | שמונה שקלים.



חלב | שישה שקלים.



יוגורט | ארבעה שקלים.



שק מלפפונים | עשרים שקלים.

